

10 unités c'est une dizaine
10 dizaines c'est une centaine

245 → C'est 2 c, 4 d et 5 u

Complète.

1 centaine, 3 dizaines et 6 unités	100 + 30 + 6	136
4 centaines, 2 dizaines et 1 unité		
8 centaines, 9 dizaines et 7 unités		
	500 + 40 + 3	
		655
7 centaines et 2 unités		
	200 + 60 + 3	

Ecris les nombres.

	c	d	u
quatre cent neuf			
huit cent cinquante - deux			
six cent trente - trois			
cent quatre vingt - sept			
quatre vingt dix - huit			

Complète :

		C	D	U
136	$100 + 30 + 6$	1	3	6
140				
345				
258				
	$300 + 20 + 6$			
		4	5	9
	$100 + 2$			
		1	7	8
93				
402				
		1	0	7

Complète :

		C	D	U
136	$100 + 30 + 6$	1	3	6
140				
345				
258				
	$300 + 20 + 6$			
		4	5	9
	$100 + 2$			
		1	7	8
93				
402				
		1	0	7

Complète :

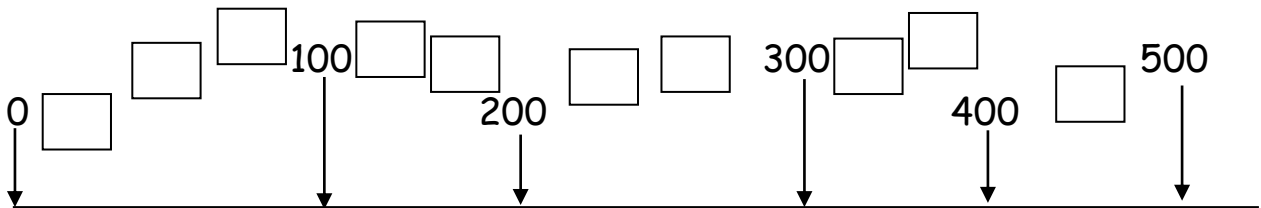
		C	D	U
136	$100 + 30 + 6$	1	3	6
150				
323				
267				
	$500 + 10 + 9$			
		7	4	2
	$200 + 4$			
		3	9	8
77				
604				
		4	0	8

Complète :

		C	D	U
136	$100 + 30 + 6$	1	3	6
150				
323				
267				
	$500 + 10 + 9$			
		7	4	2
	$200 + 4$			
		3	9	8
77				
604				
		4	0	8

Observe et place les nombres suivants à leur place :

316 - 113 - 53 - 448 - 75 - 236 - 134 - 302 - 222 - 98



Ecris le nombre qui est juste avant et le nombre qui est juste après.

--- 128 ---

--- 99 ---

--- 219 ---

--- 111 ---

--- 325 ---

--- 255 ---

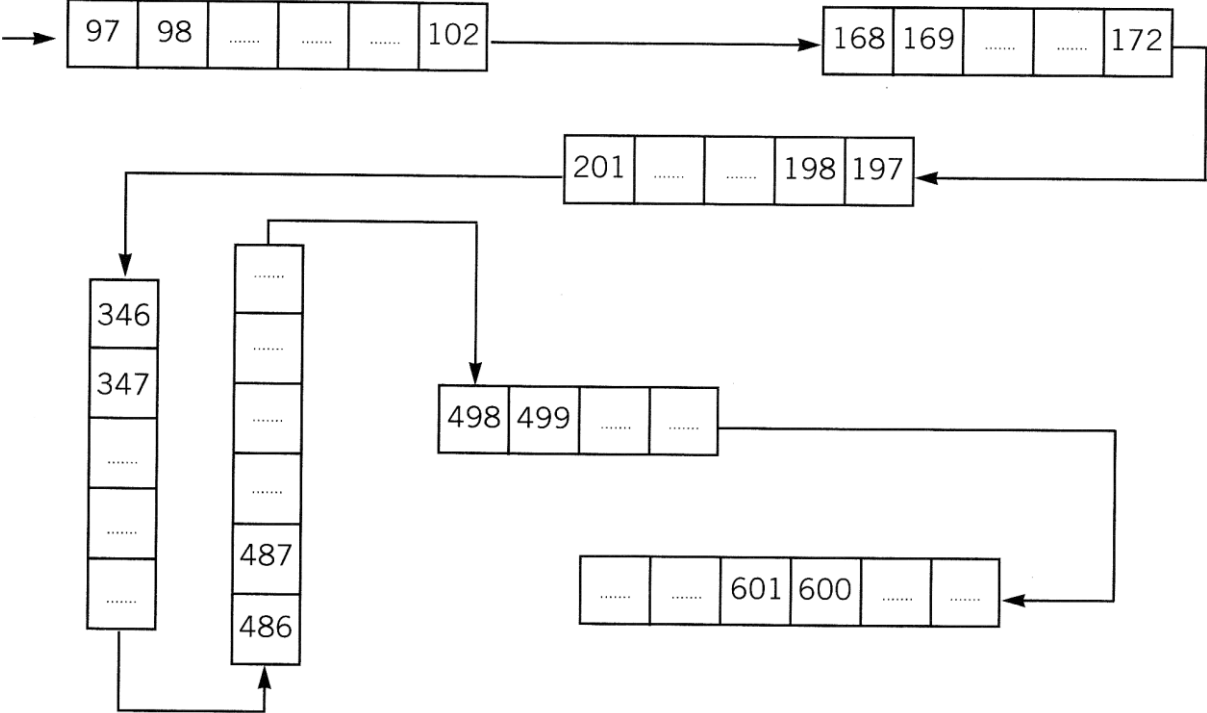
--- 398 ---

--- 451 ---

--- 279 ---

--- 301 ---

Complète ces suites de nombres.



Entoure le chiffre demandé.

unité	155	58	300
centaine	705	411	758
dizaine	856	508	84

Entoure le chiffre demandé.

unité	155	58	300
centaine	705	411	758
dizaine	856	508	84

Entoure le chiffre demandé.

unité	155	58	300
centaine	705	411	758
dizaine	856	508	84

Entoure le chiffre demandé.

unité	155	58	300
centaine	705	411	758
dizaine	856	508	84

Entoure le chiffre demandé :

Exemple: unité → 3 6 1

dizaines → 5 9 6

centaines → 1 8 6 7

unités → 2 0 3

centaines → 5 9 6

classe des mille → 3 8 6 2

dizaines → 9 5 2 1

unités → 9 5 2 3

classe des mille → 8 5 3 7

Entoure le chiffre demandé :

Exemple: unité → 3 6 1

dizaines → 5 9 6

centaines → 1 8 6 7

unités → 2 0 3

centaines → 5 9 6

classe des mille → 3 8 6 2

dizaines → 9 5 2 1

unités → 9 5 2 3

classe des mille → 8 5 3 7

Entoure le chiffre demandé :

Exemple: unité → 3 6 1

dizaines → 5 9 6

centaines → 1 8 6 7

unités → 2 0 3

centaines → 5 9 6

classe des mille → 3 8 6 2

dizaines → 9 5 2 1

unités → 9 5 2 3

classe des mille → 8 5 3 7

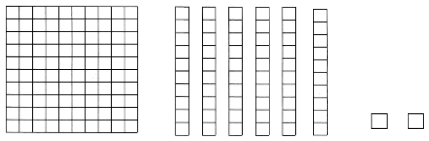
Représente les nombres ci - dessous :

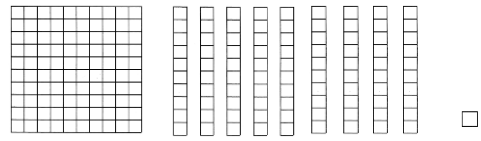
162	191	477	234	859
570	342	621	747	911
261	216	119	507	57

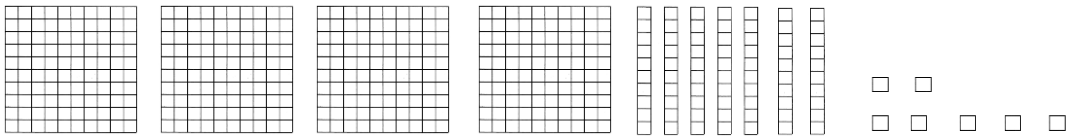
Décompose les nombres ci – dessous, puis entoure le chiffre des centaines :

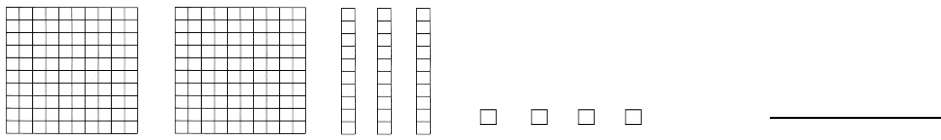
798	191	477	789	859
950	905	509	747	911
897	978	987	958	57


Ecris le nombre représenté :

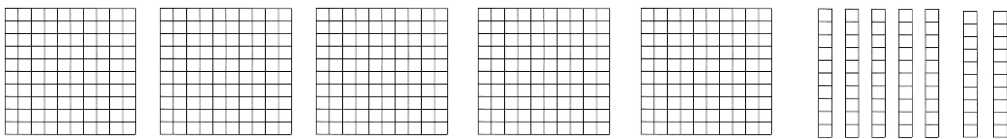












238	200+ 30+8	199	100+ 90+9
345	300+ 40+5	427	400+ 20+7
500	500+ 0	175	100+ 70+5
293	200+ 90+3	364	300+ 60+4

444	400+ 40+4	482	400+ 80+2
355	300+ 50+5	498	400+ 90+8
401	400+ 1	210	200+ 10
305	300+ 5	236	200+ 30+6

78	70+8	340	300+ 40
144	100+ 40+4	433	400+ 30+3
177	100+ 70+7	209	200+ 9
98	90+8	499	400+ 90+9

603	600+ 3	743	700+ 40+3
306	300+ 6	630	600+ 30
734	700+ 30+4	897	800+ 90+7
987	900+ 80+7	978	900+ 70+8

798	700+ 90+8	789	700+ 80+9
950	900+ 50	905	900+ 5
509	500+ 9	590	500+ 90
832	800+ 30+2	661	600+ 60+1