
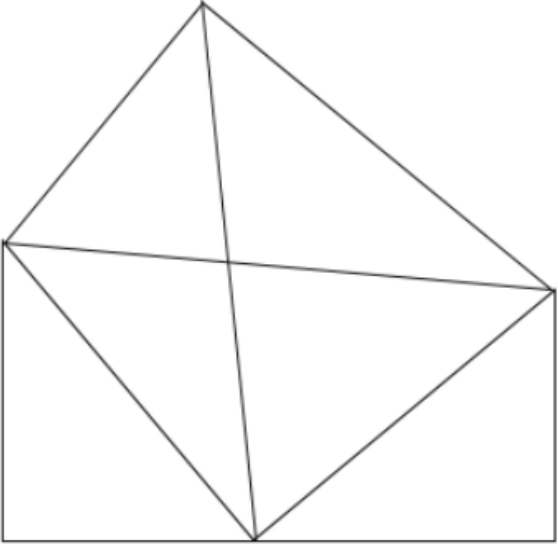


1) Le chercheur

	<h2>Le chercheur ★</h2>	2
<p>Combien vois-tu de triangles ?</p> 		

2) La boîte à énigmes

	<h2>La boîte à énigmes ★</h2>	3
 <p>A – Si cet oiseau attrape 5 poissons par jour combien de poissons aura-t-il attrapé en 1 semaine ?</p> <p>B – Il en fait tomber 1 par jour, combien en aura-t-il mangé en 1 semaine ?</p>		

CE2

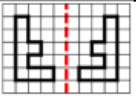
1) Multiplication : pose les multiplications ci-dessous

43 x 15 =	56 x 32 =	243 x 5 =
-----------	-----------	-----------

2) Problème

Dans son jardin, Papi a des navets, des pommes de terre, des tomates et des carottes.
Combien de soupes composées de 3 légumes différents peut-il préparer ?

3) Géométrie

	LE MIROIR ★★	3
Trace la figure symétrique par rapport à l'axe rouge:		
