

Les climats en France



L'Europe (dont la France) est dans la zone climatique tempérée. Cette zone se caractérise par quatre saisons différentes, marquées par les variations de température et de précipitations.

La France est soumise à trois grandes influences climatiques : océanique, méditerranéenne et continentale.

1/ Indique sur la carte les villes ou régions ayant un climat :

- Océanique :
- Méditerranéen :
- Continental :

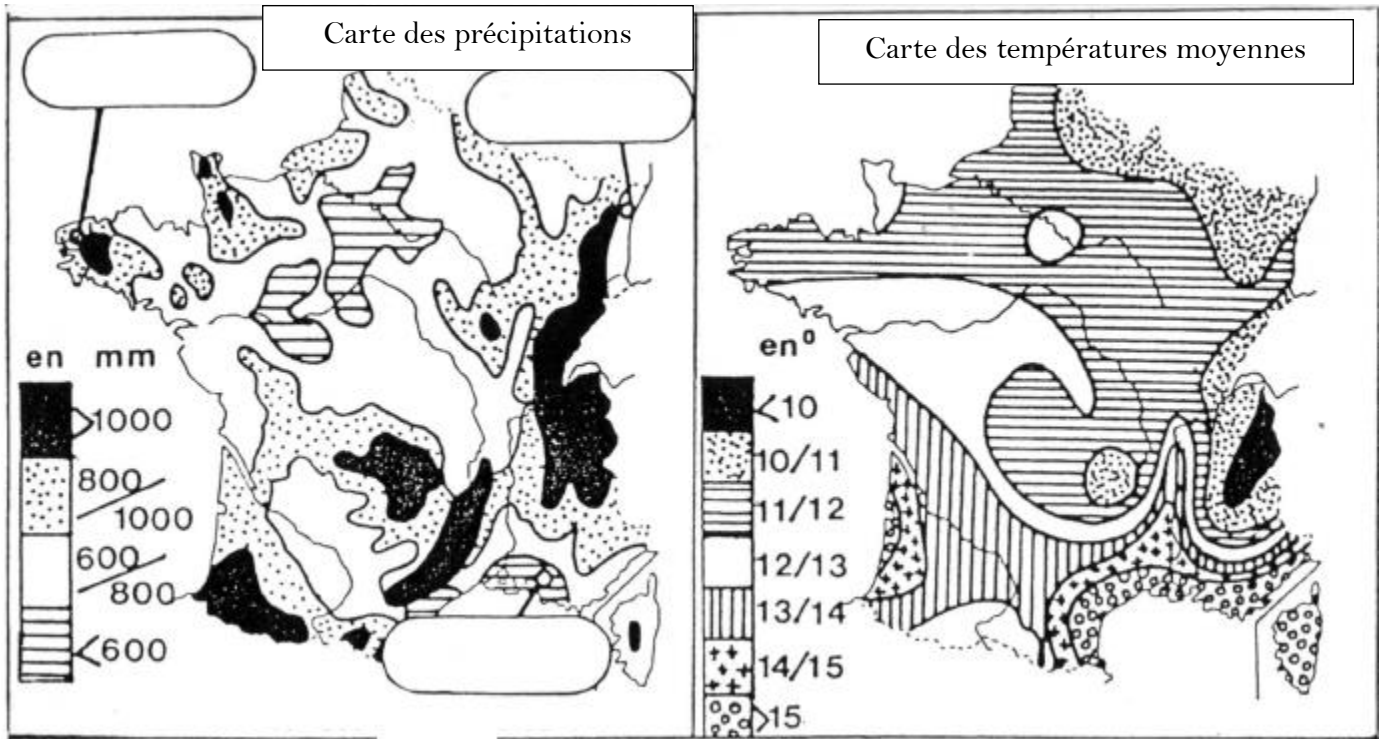
2/ relie chaque climat à son descriptif et à la photo qui lui correspond :

Climat océanique	Climat méditerranéen	Climat continental	Climat montagnard
------------------	----------------------	--------------------	-------------------

<p>Il se caractérise par les hivers doux et des étés frais.</p> <p>Il couvre les deux tiers du territoire ouvert sur l'océan.</p> <p>Les précipitations sont régulières dans l'année.</p>	<p>La température diminue lorsque l'altitude augmente. C'est surtout le fort enneigement en hiver qui caractérise ce climat.</p>	<p>Ce climat connaît des hivers doux et des étés chauds et secs.</p> <p>Ce climat attire les touristes.</p> <p>Les précipitations sont plus importantes en automne.</p>	<p>A l'Est, les étés sont très chauds et les hivers très froids (les températures sont souvent inférieures à 0°C).</p> <p>Il pleut peu et presque seulement sous forme d'averse l'été.</p>
---	--	---	--



La France du Sud est beaucoup plus chaude et beaucoup plus ensoleillée que la France du Nord. L'air venu de l'océan adoucit en hiver les températures le long de la côte atlantique.



Pass
educ
tion
r

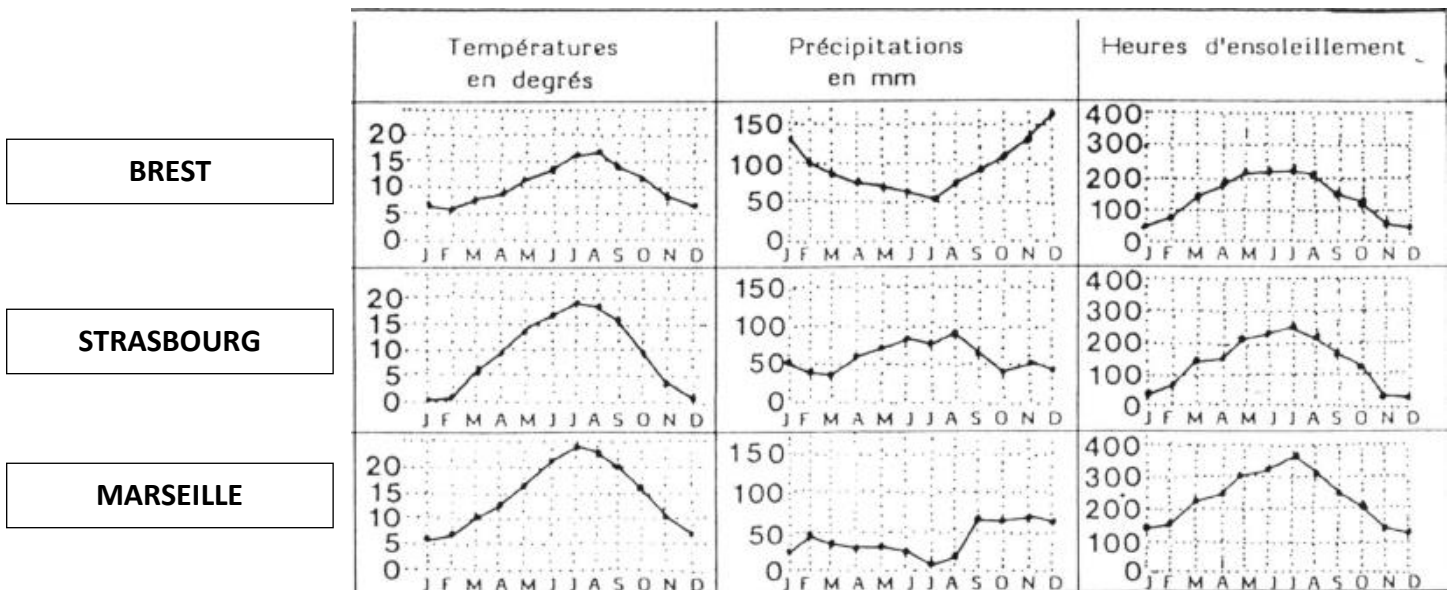
3/ Que signifie précipitations ?

.....

4/ Dans quelles régions pleut-il le plus souvent ?

.....

5/ A l'aide des graphiques ci-dessous, écris sur la carte le nom des villes correspondant.



6/ Parmi les trois graphiques concernant les températures, quel est celui qui a la température la plus élevée ? :

7/ D'après la carte des précipitations, indique la ville où il pleut le plus :

Correction

1/ Indique sur la carte une ville ou région ayant un climat :





- Océanique : Lille, Paris, Nantes, Bordeaux, Toulouse

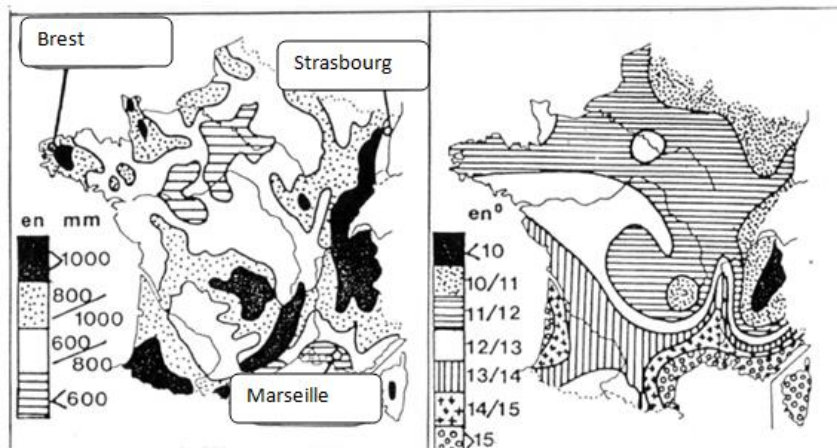
- Méditerranéen : Marseille, Bastia, Ajaccio

Plusieurs choix possibles

- Continental : Strasbourg, Lyon

2/ relie chaque climat à son descriptif et à la photo qui lui correspond :

Climat océanique	Climat méditerranéen	Climat continental	Climat montagnard
<p>Il se caractérise par les hivers doux et des étés frais.</p> <p>Il couvre les deux tiers du territoire ouvert sur l'océan.</p> <p>Les précipitations sont régulières dans l'année.</p>	<p>La température diminue lorsque l'altitude augmente. C'est surtout le fort enneigement en hiver qui caractérise ce climat.</p>	<p>Ce climat connaît des hivers doux et des étés chauds et secs.</p> <p>Ce climat attire les touristes.</p> <p>Les précipitations sont plus importantes en automne.</p>	<p>A l'Est, les étés sont très chauds et les hivers très froids (les températures sont souvent inférieures à 0°C).</p> <p>Il pleut peu et presque seulement sous forme d'averse l'été.</p>
			



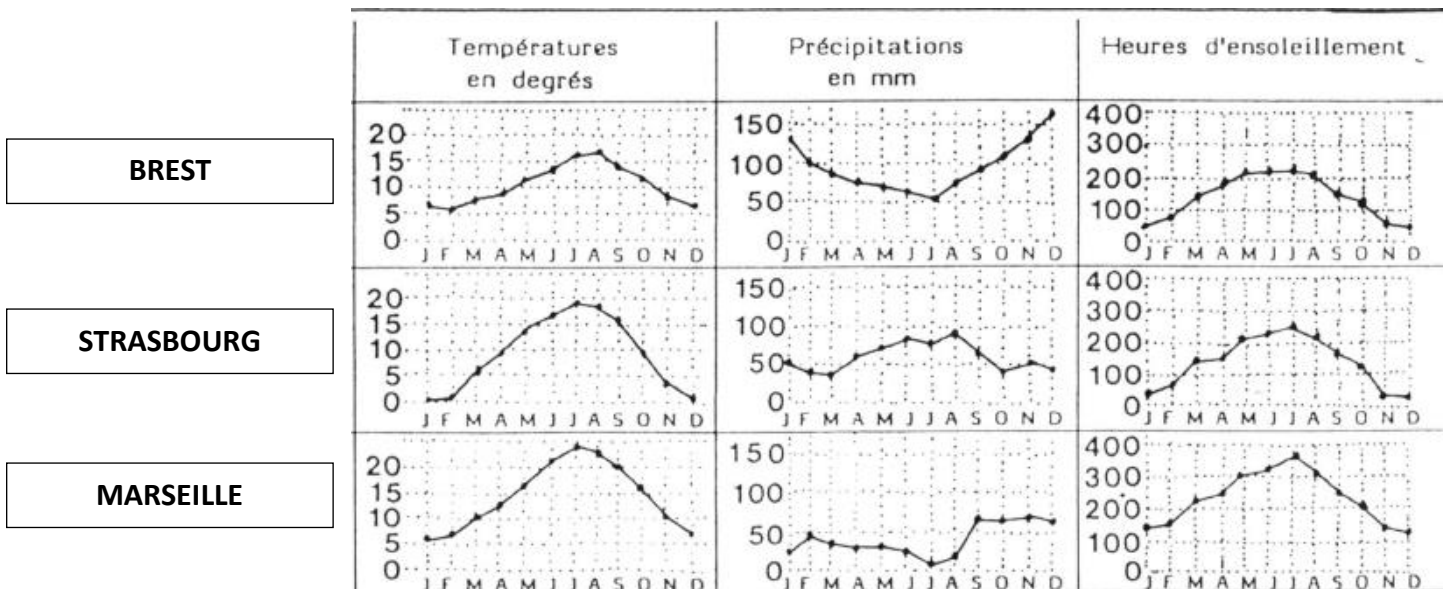
3/ Que signifie précipitations ?

Humidité qui tombe du ciel sous forme de pluie, de neige ou de grêle.

4/ Dans quelles régions pleut-il le plus souvent ?

Il pleut le plus souvent dans l'Est, dans l'extrême sud-ouest près de l'océan Atlantique.

5/ A l'aide des graphiques ci-dessous, écris sur la carte le nom des villes correspondant.



6/ Parmi les trois graphiques concernant les températures, quel est celui qui a la température la plus élevée ? : **Marseille avec plus de 20°C en juillet**

7/ D'après la carte des précipitations, indique la ville où il pleut le plus : **Brest**