

Fiche du nombre « 1 000 » : (Ce type d'exercice a déjà été fait en classe, avec d'autres nombres).

Il est important de découper chaque partie et de les donner progressivement.

Ces exercices peuvent être faits en reproduisant soigneusement les dessins.

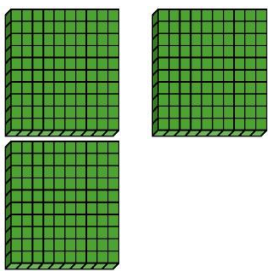
Partie 1 : rappels à faire avant de commencer les autres parties !

$$1000 = \dots \text{ paquets de } 100$$

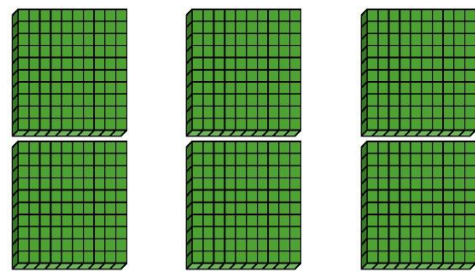
$$1000 = \dots \text{ centaines}$$

$$100 = \dots \text{ dizaines}$$

Partie 2 : Dessine les centaines qui manquent pour faire 1000 et complète

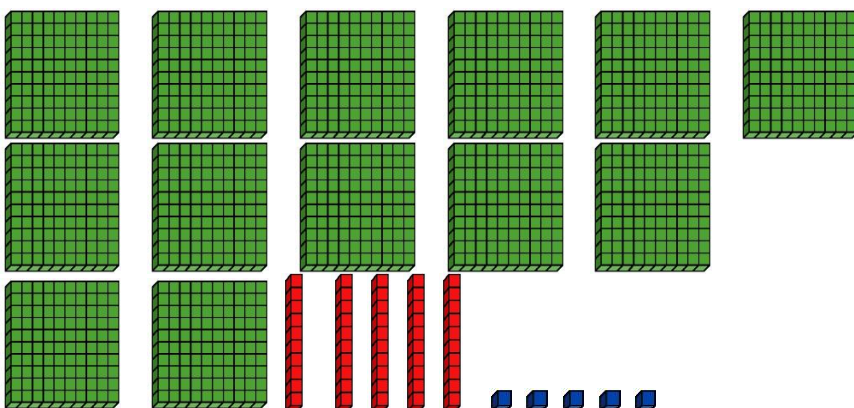


$$300 + \dots = 1\ 000$$



$$600 + \dots = 1\ 000$$

Partie 3 : Quel est le nombre représenté ici ? Fais des paquets de 10 centaines pour trouver !




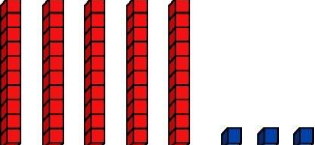



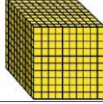



(suite derrière)

Partie 4 :

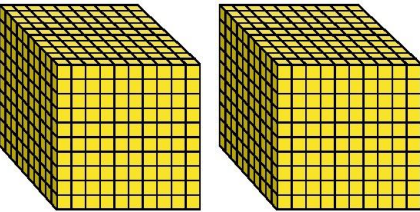

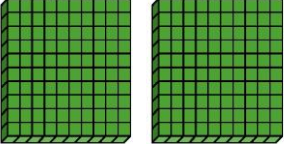
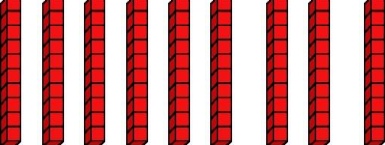

Ecris le nombre représenté dans le tableau .

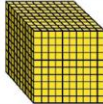



(Ici, pour t'aider, fais des paquets de 10 centaines).

				
---	---	---	---	---

			
mille	centaine	dizaine	unité
M	C	D	U

Ecris le nombre représenté dans le tableau :

				
---	---	---	---	---

			
mille	centaine	dizaine	unité
M	C	D	U