

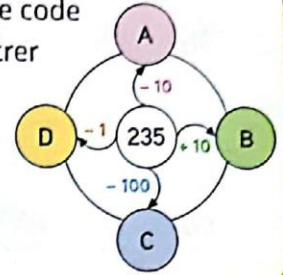
Quand ta réponse est correcte, colorie l'étoile. ★



1 Chaque lettre cache un nombre.



Trouve le code pour entrer dans ce temple.



- A
- B
- C
- D

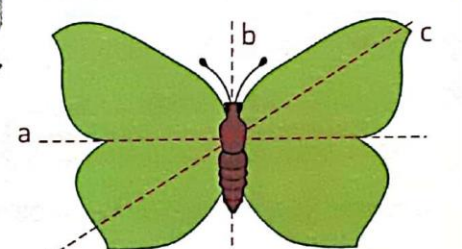
2 On compte **trois mille cinq cent trente-deux** espèces d'insectes, **trois cent neuf** espèces d'oiseaux et **mille cinq cent quatre-vingts** espèces de mammifères.
★ **Écris** ces nombres en chiffres.

Insectes :
.....
Oiseaux :
.....
Mammifères :
.....

3 Il y a 162 bananes sur le bananier.
★ Les singes en mangent 38.
Combien de bananes reste-t-il ?
Il reste bananes.




4



Quelle droite est l'axe de symétrie du papillon ?

5 Pour traverser le fleuve, il faut prendre un radeau de forme carrée.
★ **Trace** un carré de 5 cm de côté.



6 Il y a 25 perroquets bleus dans un arbre et le double de perroquets verts dans un autre.
★ **Combien y a-t-il de perroquets verts ?**
Il y a perroquets verts.

